

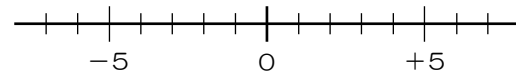
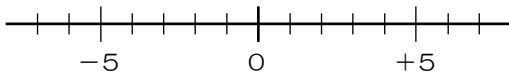
1年組 番 ()

正の数、負の数の加法には、どのようなきまりがあるのだろう。

(1) 異符号の2数の加法には、どのようなきまりがあるのだろう。

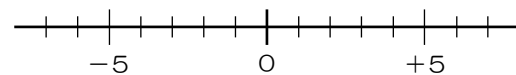
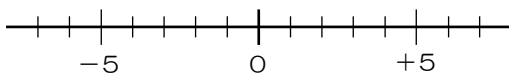
① () + ()

② () + ()



③ () + ()

④ () + ()



★異符号の2数の加法のきまりについて、まとめましょう。

【異符号の2数の和の求め方】

• 符 号 . . .

• ぜったいち絶対値 . . .

(2) 3つ以上の数の加法は、どのように計算したら
よいのだろう。

① () + () + ()

《自分の考え》

《他の考え》

② () + () + () + ()

《自分の考え》

《他の考え》

★3つ以上の数の加法について、まとめましょう。

今日の学習を振り返って、学んだことを書こう。